

ورقة عمل: الأعداد + أجزاء المئة

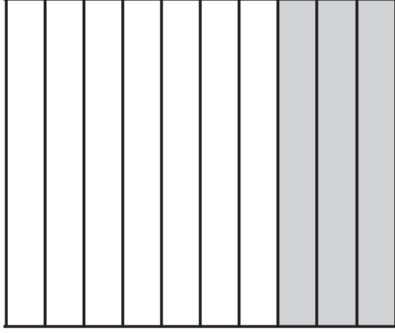
الاسم :

الصف : الرابع

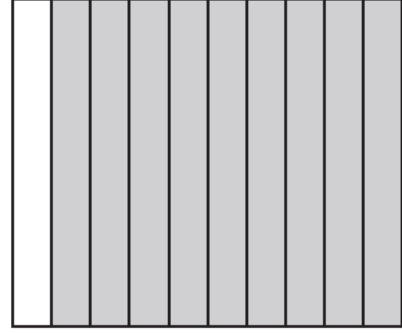
التاريخ

١٤٤٣ / هـ

اكتب الكسور الاعتيادي والكسر العشري اللذين يُعبّران عن الجزء المظلل في كل مما يأتي:



٢



١

اكتب الكسر الاعتيادي على صورة كسر عشري:


..... ٤ أربعة أعشار.

..... ٣ $\frac{5}{10}$

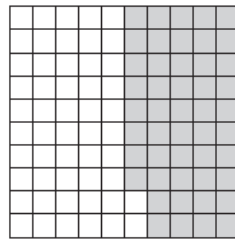
..... ٦ أكل فراس ٣ فطيرة.

..... ٥ $\frac{2}{10}$


اكتب الكسور الاعتيادي والكسر العشري اللذين يُعبّران عن الجزء المظلل في كل مما يأتي:



٣



٢



١

.....

.....

.....

.....

.....

.....

اكتب الكسر العشري على صورة كسر اعتيادي:

..... = ٠,١٧ ٥

..... = ٠,٦٤ ٤

..... = ٠,٣٥ ٧

..... = ٠,٤٨ ٦