




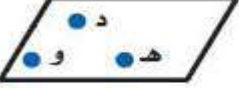

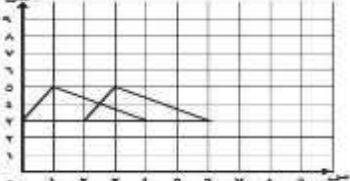








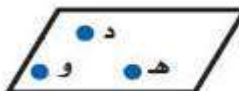

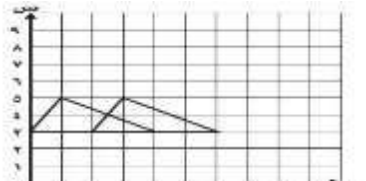
الخامس	الصف	رياضيات	المادة	الفصل الدراسي الثالث ١٤٤٣ هـ	اختبار الفترة الثانية
	المعلم	—	الدرجة	.....	اسم الطالب

**السؤال الأول: ضع الرقم المناسب من القائمة ( أ ) أما ما يناسبها من القائمة ( ب )**

م	القائمة ( أ )	الرقم المناسب	القائمة ( ب )
١.	٣ وحدات إلى أسفل		
٢.	وحدتان إلى اليسار		
٣.	مستقيم		٦:١٥ صباحًا إلى ١٢:٢٠ ظهرًا
٤.	مستوى		
٥.	قطعة مستقيمة		
٦.	شكل سداسي عدد أضلاعه ستة وعدد زواياه ستة		
٧.	شكل خماسي عدد أضلاعه خمسة وعدد زواياه خمسة		
٨.	٦ ساعات و ٥ دقائق		
٩.	الملمتر		
١٠.	السنتيمتر		

الخامس	الصف	رياضيات	المادة	الفصل الدراسي الثالث ١٤٤٣ هـ	اختبار الفترة الثانية
	المعلم	—	الدرجة	.....	اسم الطالب

**السؤال الأول: ضع الرقم المناسب من القائمة ( أ ) أما ما يناسبها من القائمة ( ب )**

م	القائمة ( أ )	الرقم المناسب	القائمة ( ب )
١.	٣ وحدات إلى أسفل	<u>١٠</u>	<p>طول شخص</p> 
٢.	وحدتان إلى اليسار	<u>٩</u>	<p>طول نملة</p> 
٣.	مستقيم	<u>٨</u>	٦:١٥ صباحًا إلى ١٢:٢٠ ظهرًا
٤.	مستوى	<u>٧</u>	
٥.	قطعة مستقيمة	<u>٦</u>	
٦.	شكل سداسي عدد أضلاعه ستة وعدد زواياه ستة	<u>٥</u>	
٧.	شكل خماسي عدد أضلاعه خمسة وعدد زواياه خمسة	<u>٤</u>	
٨.	٦ ساعات و ٥ دقائق	<u>٣</u>	
٩.	الملمتر	<u>٢</u>	
١٠.	السنتيمتر	<u>١</u>	