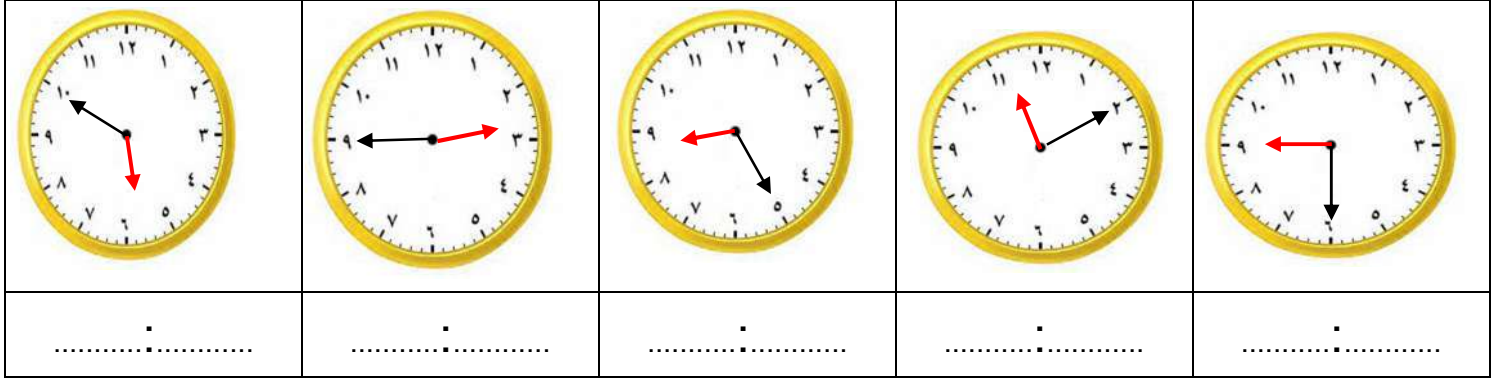


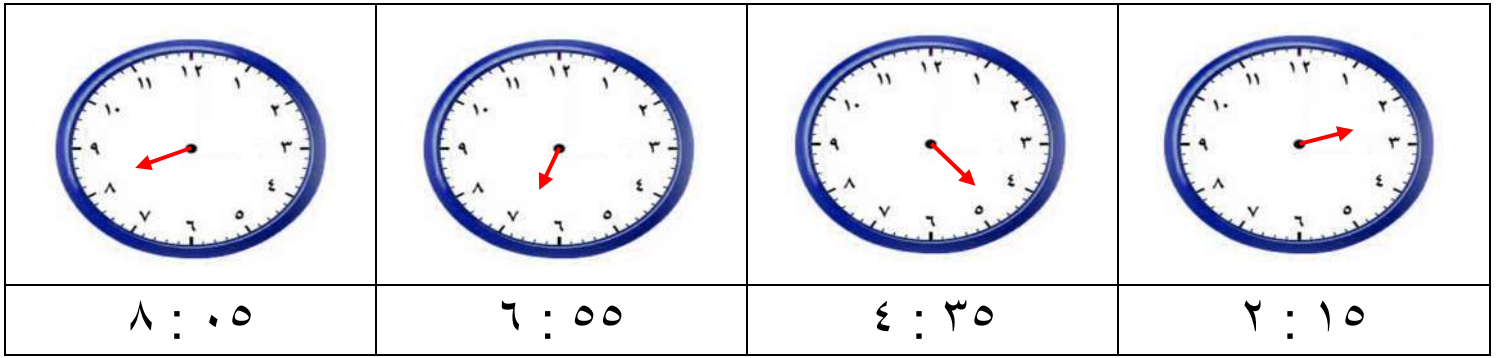
## اختبار قياس مهارات الفترة الثالثة الصف الثاني الابتدائي

اسم الطالب / ة :- ..... الصف الثاني .....

• اكتب الوقت الذي تشير إليه الساعة:



• ارسم عقرب الدقائق المفقود الذي يدل على الوقت المعطى:



• عد النقود وأكتب مجموع قيمتها.

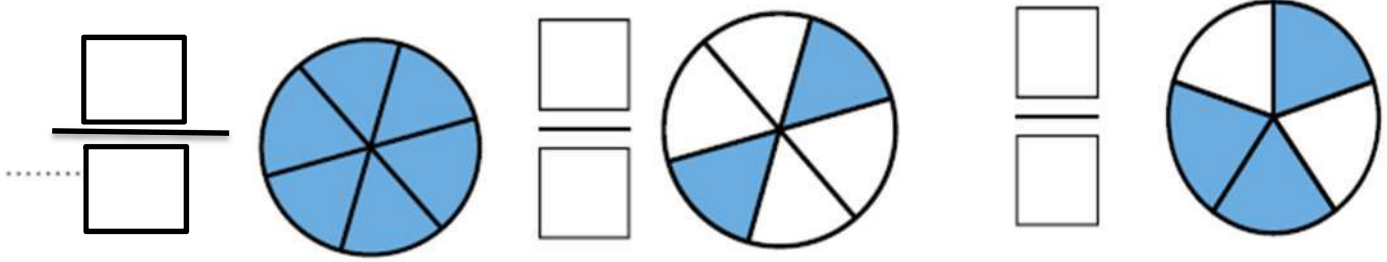


المجموع ..... ريالاً

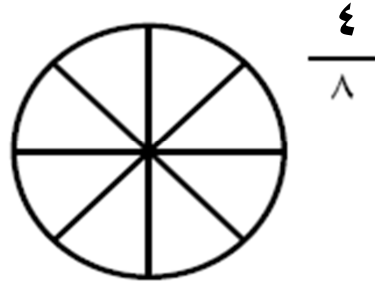


المجموع ..... ريالاً

• أكتب الكسر الدال على الأجزاء الملونة :-




• لَوْن الأجزاء التي تمثل الكسر المكتوب :-



• قارن بين الكسرين ثم أكتب الإشارة المناسبة < ، > ، = :-

$$\frac{1}{6} \bigcirc \frac{1}{2} , \frac{1}{4} \bigcirc \frac{1}{7} , \frac{1}{9} \bigcirc \frac{1}{5}$$

• أكتب الكسر الدال على الأجزاء الملونة :-



• إملاء لوحة المنازل وأكتب العدد :-

